

# ДЕЛЕНИЕ

Работен лист на .....

1. зад. Какво делим? Подчертайте правилното.






8 точки, 2 множества, 4 точки



9 звезди, 3 множества, 3 точки;

2. зад. На колко множества сме разделили? Подчертайте правилното.




21 множества

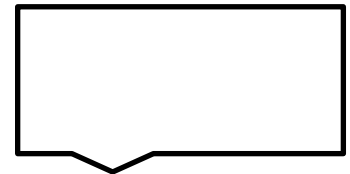
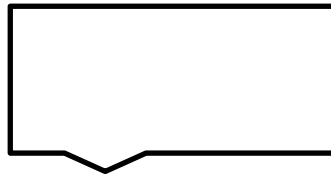

3 множества

7 множества

Колко триъгълника са разделени? .....

По колко триъгълника има в едно множество? ....

3. зад. Раздели  в двата листа поравно. Нарисувай ги.



Колко са  ? .....

Колко са множества? .....

По колко  има в едно множество? .....

Кое деление се отнася за тази задача?  $12 : 2 = 6$

$12 : 6 = 2$

4. зад. Разделете поравно:

а) 16 ябълки на 4 деца 

По колко ябълки получи всяко дете? ....

б) 18 ягоди на 3 деца 

По колко ягоди получи всяко от трите деца? по .....

Запишете решението с деление. ....

5. зад. Кое деление е за изображението? Подчертайте го.

а)   $6 : 3 = 2$        $6 : 2 = 3$

б)   $7 : 7 = 1$  лв       $7 : 1 = 7$  лв

в)   $10 : 5 = 2$        $10 : 2 = 5$